

TOÁN LỚP 2 HK2

ĐỀ SỐ 1)

1. Khoanh vào chữ đặt trước câu trả lời đúng:

A) Các số 562; 625; 652 viết theo thứ tự từ bé đến lớn là:

- a. 562; 625; 652 b. 625; 562; 652 c. 652; 625; 562

B) Trong các số 265; 279; 257; 297; số lớn hơn 279 là:

- a. 265 b. 257 c. 297

2. Đúng ghi Đ, sai ghi S:

a. $38m + 27m =$ b. $1m = 10dm$

c. $16cm : 4 =$ d. $1000m =$

3. Viết tiếp vào chỗ chấm cho thích hợp:

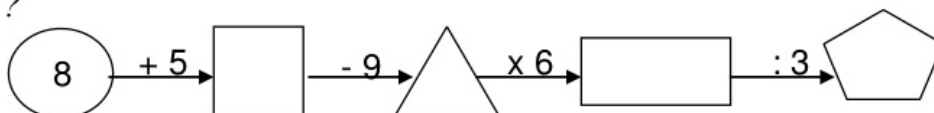
a. 211; 212; 213;;; 216;; 218; 219;

b. 510; 515;; 525; 530;;

4. Nối mỗi số với cách đọc của số đó:

Tám trăm bảy mươi	→	400
Năm trăm bảy mươi	→	404
Bốn trăm linh bốn	→	875
Bốn trăm	→	578

5. Số ?



6. Điền dấu >, <, = vào ô trống:

a. $600 + 30 + \square = 63$

c. $100 \square 1000$

7. Điền b. $30 : 5 : 3 \square 12$

d. $400 \times 2 \square 600 + 200$

a. $400 + 99$

b. $764 -$

.....

.....

8. Tìm x : a. $400 + x = 200 \times$

b. $295 - x = 180$

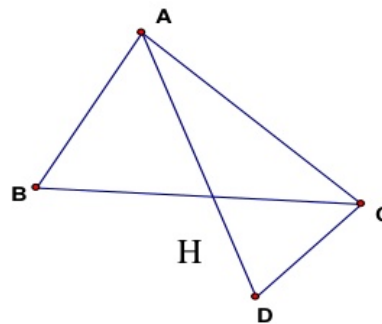
.....

.....

9. Hình bên có hình tam giác

Viết tên các hình tam giác đó:

.....



10. Đàn gà nhà Lan có 86 con, đã bán đi 29 con. Hỏi nhà Lan còn lại bao nhiêu con gà?

Giải

.....

Bài 1: (1điểm) Viết các số thích hợp vào chỗ trống.

a) 216; 217; 228;;

b) 310; 320; 330;;

Đăng ký học tập bồi dưỡng Toán lớp 3 ôn luyện thi Toán Violympic | Cô Trang – 0948.228.325

2

Hệ thống phát triển Toán IQ Việt Nam
 Cô Trang – 0948.228.325
 -----***-----

TOÁN IQ.com

2/(1 điểm) Các số : 28, 81, 37, 72, 39, 93 viết các ó sau từ bé đến lớn:

A. 37, 28, 39, 72, 93, 81

C. 28, 37, 39, 72, 81, 93

B. 93, 81, 72, 39, 37, 28

D. 39, 93, 37, 72, 28, 81

Bài 3: (1 điểm) Hoàn thành bảng sau:

Đọc số	Viết số	Trăm	Chục	Đơn vị
Bảy trăm chín mươi	790			
.....	935			

Bài 4: (1 điểm) Viết số thích hợp vào chỗ chấm:

1m =dm

519cm =m.....cm

2m 6 dm =dm

14m - 8m =

Bài 5: (2 điểm) Đặt tính rồi tính:

84 + 19

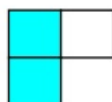
62 - 25

536 + 243

879 - 356

.....

Bài 6. (0,5 điểm) Khoanh vào chữ cái dưới hình được tô màu $\frac{1}{3}$ số ô vuông.



A



B



C



D

Bài 7) Tìm x : (1 điểm)

a) $x : 4 = 8$

b) $4 \times x = 12 + 8$

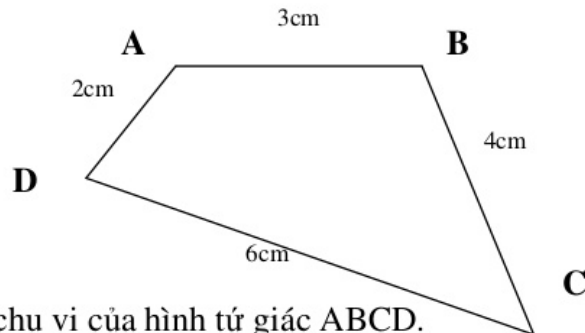
Đăng ký học tập bồi dưỡng Toán lớp 3 ôn luyện thi Toán Violympic | Cô Trang – 0948.228.325

3

Hệ thống phát triển Toán IQ Việt Nam
 Cô Trang – 0948.228.325
 -----***-----

Toán IQ.com

Bài 8: (1 điểm) Cho hình tứ giác ABCD như hình vẽ:



a/ Tính chu vi của hình tứ giác ABCD.

Bài giải

Bài 9: (1,5 điểm) Đội Một trồng được 350 cây, đội Hai trồng được ít hơn đội Một 140 cây.
 Hỏi đội Hai trồng được bao nhiêu cây ?

Bài giải

.....

.....

.....

.....

ĐỀ SỐ 2)

Đăng ký học tập bồi dưỡng Toán lớp 3 ôn luyện thi Toán Violympic | Cô Trang – 0948.228.325

4

Hệ thống phát triển Toán IQ Việt Nam
 Cô Trang – 0948.228.325
 -----***-----

Toán IQ.com

ĐỀ KIỂM ĐỊNH CHẤT LƯỢNG CUỐI NĂM HỌC 2014- 2015
MÔN TOÁN– KHỐI 2

Thời gian: 40 phút (không kể chép đề)

Bài 1 : Nối số thích hợp với ô trống: (1 điểm)

a) < 70

b) > 40

6

9

5

8

7

4

5

3

Bài 2 : Đặt tính rồi tính (2điểm)

52 + 27

54 – 19

33 + 59

71 – 29

.....

.....

.....

.....

.....

.....

.....

.....

.....

.....

.....

.....

Bài 3 : Tìm X (2 điểm)

a) $X - 29 = 32$

b) $X + 55 = 95$

.....

.....

.....

.....

Bài 4: (2 điểm) Viết số thích hợp vào chỗ trống :

a) 5 dm = cm

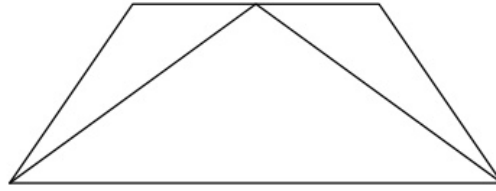
b) 1m = cm

40 cm = dm

60 cm = dm

Bài 5:(2 điểm) Lớp 2A có tất cả 28 học sinh, xếp thành 4 hàng. Hỏi mỗi hàng có bao nhiêu học sinh?

Bài 6 (1 điểm).
- Trong hình bên:
Có hình tam giác
Có hình tứ giác



ĐỀ SỐ 3)

Bài 1:Tính nhẩm(2đ)

$2 \times 6 = \dots$	$3 \times 6 = \dots$	$27 : 3 = \dots$	$20 : 4 = \dots$
$15 : 3 = \dots$	$24 : 4 = \dots$	$4 \times 7 = \dots$	$5 \times 5 = \dots$

Bài 2:Đặt tính rồi tính(2đ)

$356+212$	$857-443$	$96-48$	$59+27$
.....
.....
.....

Bài 3:Tính(2đ)

$5 \times 4 + 15 = \dots$	$30 : 5 : 3 = \dots$
$7 \text{ giờ} + 8 \text{ giờ} = \dots$	$24\text{km} : 4 = \dots$

Bài 4: Tìm x (1đ)

$X \times 5 = 35$	$x + 15 = 74$
.....
.....
.....

Bài 5: Có 24 bút chì màu ,chia đều cho 3 nhóm .Hỏi mỗi nhóm có mấy bút chì màu?(2điểm)

Bài giải

.....
.....
.....
.....

Bài 6: Mỗi chuồng có 4 con thỏ. Hỏi 5 chuồng như thế có bao nhiêu con thỏ ?

Bài giải

.....

Bài 7: Điền số ?

1dm =cm 1m = dm 1km = m 1m = mm 1cm =mm

10cm =dm 10dm =m 1000m =km 1000mm =m 10mm =cm

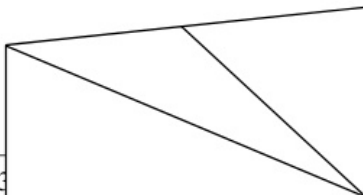
Bài 8: Điền dấu (+, -, x, :) vào ô trống để được phép tính đúng:

4		5		2	=	10
---	--	---	--	---	---	----

3		5		15	=	30
---	--	---	--	----	---	----

Bài 9: Hình bên có bao nhiêu hình:

- a) tứ giác.
 b) tam giác



Đăng ký học tập bồi dưỡng Toán lớp 3

Cố Trang – 0948.228.325

6

Hệ thống phát triển Toán IQ Việt Nam
 Cố Trang – 0948.228.325
 -----***-----

Toán IQ.com

ĐỀ SỐ 4)

ĐỀ KIỂM TRA TỰ LUYỆN CUỐI HỌC KỲ II

Năm học: 2010-2011 MÔN: TOÁN LỚP 2

A. PHẦN CƠ BẢN

Bài 1/ Nối mỗi số với cách đọc số đó:

Bốn trăm linh năm

322

Năm trăm hai mươi một

405

Ba trăm hai mươi hai

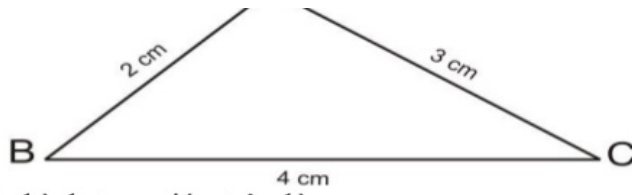
450

Bốn trăm năm mươi

521

Bài 2/ Khoanh vào chữ đặt trước kết quả đúng:

A



Chu vi của hình tam giác trên là:

- A. 7 cm B. 24 cm C. 9 cm D. 12 cm

Bài 3/

>	401 399	701 688
<	359 505	456 456
=		

Bài 4/ Đặt tính rồi tính:

47 + 25	91 - 25	972 - 430	532 + 245
.....
.....
.....
.....

Bài 5/ Một lớp học có 32 học sinh, xếp đều thành 4 hàng. Hỏi mỗi hàng có bao nhiêu học sinh ?

Bài giải:

Đăng ký học tập bồi dưỡng Toán lớp 3 ôn luyện thi Toán Violympic | Cô Trang – 0948.228.325

7

Hệ thống phát triển Toán IQ Việt Nam
 Cô Trang – 0948.228.325
 -----***-----

Toán IQ.com

.....

.....

.....

.....

.....

Bài 6/ Tìm x.

$$100 + x = \boxed{12}$$

Câu 7/ Đọc các số sau :

- a/ 105:..... b/
- 234:.....
- c/ 396:..... c/
- 424:.....

Câu 8/ Viết các số : 439 ; 972 ; 394 ; 521

- a,/ Theo thứ tự từ lớn đến bé b/ Theo thứ tự từ bé đến lớn

.....
 Câu 9/Tính nhẩm

$$400 + 300 = \quad 800 - 200 = \quad 4 \times 5 = \quad 35 : 5 =$$

Câu 10/ Đặt tính rồi tính

$$64 + 27 \quad 94 - 75 \quad 318 + 141 \quad 784 - 403$$

.....

Câu 11/ Tìm x :

$$X : 4 = 3$$

$$25 : x = 5$$

.....

Câu 12/ Tính

$$24 + 16 - 26 = \dots\dots\dots$$

$$= \dots\dots\dots$$

$$3 \times 6 : 2 = \dots\dots\dots$$

$$= \dots\dots\dots$$

Câu 13/ Khoanh vào chữ đặt trước câu trả lời đúng :

- A. 2 hình tam giác và 2 hình tứ giác
- B. 2 hình tam giác và 3 hình tứ giác
- C. 2 hình tam giác và 4 hình tứ giác



Câu 14/ Bài toán

4 of 57

[View on SlideShare](#)

Like this slideshow? Why not share!

- Share
- Email
-
-

- [Tuyển tập 36 đề thi hkII môn toán v...](#) [Tuyển tập 36 đề thi hkII môn toán v... by Bồi Dưỡng HSG Toá... 6348 views](#)
- [Tuyển tập 22 đề thi môn Toán + 9 đề...](#) [Tuyển tập 22 đề thi môn Toán + 9 đề... by Bồi Dưỡng HSG Toá... 16115 views](#)
- [BỘ 9 ĐỀ ÔN THI HKII MÔN TOÁN LỚP 3](#) [BỘ 9 ĐỀ ÔN THI HKII MÔN TOÁN LỚP 3 by Bồi Dưỡng HSG Toá... 7593 views](#)
- [Tuyển tập đề thi HKII lớp 1 môn TOÁ...](#) [Tuyển tập đề thi HKII lớp 1 môn TOÁ... by Bồi Dưỡng HSG Toá... 11626 views](#)
- [ÔN TẬP CUỐI HKII MÔN TOÁN LỚP 3](#) [ÔN TẬP CUỐI HKII MÔN TOÁN LỚP 3 by Bồi Dưỡng HSG Toá... 4055 views](#)
- [Tuyển tập 30 đề HSG Toán lớp 2](#) [Tuyển tập 30 đề HSG Toán lớp 2 by Bồi Dưỡng HSG Toá... 3850 views](#)