

## Bài tập Học đếm đến 20

### Câu 1:

Có bao nhiêu bóng đèn trong hình vẽ sau?



Trả lời:

Trong hình vẽ trên có ..... bóng đèn.

### Câu 2:

Có bao nhiêu bóng đèn trong hình vẽ dưới đây?




Trả lời:

Có ..... chiếc bóng đèn trong hình vẽ trên.

### Câu 3:

Có bao nhiêu bông hoa trong hình dưới đây?



Trả lời:

Có ..... bông hoa trong hình trên.

**Câu 4:**

Có bao nhiêu quả dâu trong hình dưới đây?



Trả lời:

Có ..... quả dâu tây trong hình trên.

**Câu 5:**



Trong hình trên có ..... quả chuông.

**Câu 6:**

Có bao nhiêu con chim cút?



Trả lời:

Trong hình trên có ..... con chim cánh cụt.

**Câu 7:**

Có bao nhiêu cái chuông trong bức tranh dưới đây?




Trả lời:

Trong bức tranh trên có ..... cái chuông.

**Câu 8:**

Có bao nhiêu nải chuối?




Trả lời:

Có ..... nải chuối trong hình trên.

**Câu 9:**

Có bao nhiêu bông hoa?




Trả lời:

Có ..... bông hoa trong hình trên.

**Câu 10:**

Có bao nhiêu quả bóng bay?



Trả lời:

Có ..... quả bóng bay.

**Câu 11:**

Có bao nhiêu bộ chìa khóa?



Trả lời:

Có ..... bộ chìa khóa.

**Câu 12:**

Có bao nhiêu quả cam?



Trả lời:

Có ..... quả cam.

## Đáp án Học đếm đến 20

### Câu 1:

Có bao nhiêu bóng đèn trong hình vẽ sau?



Trả lời:

Trong hình vẽ trên có .....11... bóng đèn.

### Câu 2:

Có bao nhiêu bóng đèn trong hình vẽ dưới đây?




Trả lời:

Có .....9... chiếc bóng đèn trong hình vẽ trên.

### Câu 3:

Có bao nhiêu bông hoa trong hình dưới đây?



Trả lời:

Có .....15... bông hoa trong hình trên.

### Câu 4:

Có bao nhiêu quả dâu trong hình dưới đây?



Trả lời:

Có .....12 quả dâu tây trong hình trên.

**Câu 5:**



Trong hình trên có .....14 quả chuông.

**Câu 6:**

Có bao nhiêu con chim cụt?



Trả lời:

Trong hình trên có .....18 con chim cánh cụt.

**Câu 7:**

Có bao nhiêu cái chuông trong bức tranh dưới đây?




Trả lời:

Trong bức tranh trên có .....13. cái chuông.

**Câu 8:**

Có bao nhiêu nải chuối?




Trả lời:

Có .....11 nải chuối trong hình trên.

**Câu 9:**

Có bao nhiêu bông hoa?




Trả lời:

Có .....13 bông hoa trong hình trên.

**Câu 10:**

Có bao nhiêu quả bóng bay?



Trả lời:

Có ..... 14. quả bóng bay.

**Câu 11:**

Có bao nhiêu bộ chìa khóa?



Trả lời:

Có ..... 14 bộ chìa khóa.

**Câu 12:**

Có bao nhiêu quả cam?



Trả lời:

Có ..... 17 quả cam.