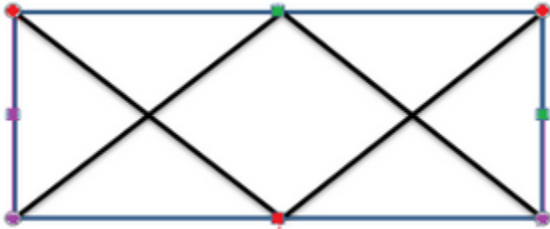


Toán lớp 1 - Nhận biết Điểm - Đoạn thẳng

Câu 1:

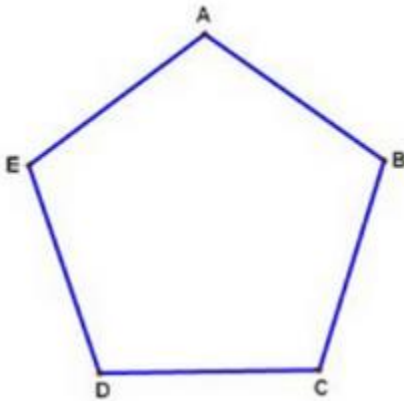
Trong hình vẽ có bao nhiêu điểm được đánh dấu?



- A. 7
- B. 8
- C. 9
- D. 10

Câu 2:

Hình vẽ có bao nhiêu đoạn thẳng?



- A. 3
- B. 4
- C. 5
- D. 6

Câu 3:

Hình có 5 đoạn thẳng nối với nhau là hình nào?



Hình A



Hình B



Hình C



Hình D

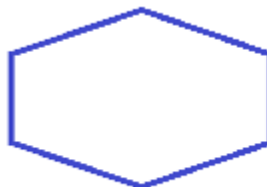
- A. Hình A
- B. Hình B
- C. Hình C
- D. Hình D

Câu 4:

Xem hình rồi chọn nhận xét đúng?



Hình A

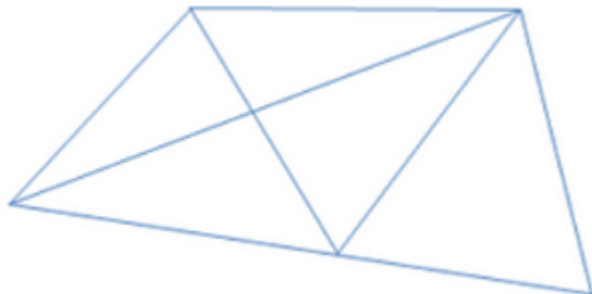


Hình B

- A. Hình A có nhiều đoạn thẳng hơn hình B.
- B. Hình A và hình B có số đoạn thẳng bằng nhau.
- C. Hình A có ít đoạn thẳng hơn hình B.

Câu 5:

Có hai đoạn thẳng hay nhiều đoạn thẳng cắt nhau tại một điểm. Hãy cho biết hình vẽ dưới đây có bao nhiêu điểm cắt nhau của các đoạn thẳng?



- A. 5
- C. 6
- C. 7

D. 8

Câu 6:

Có tất cả bao nhiêu đoạn thẳng có thể vẽ được từ 4 điểm A, B, C, D?

- A. 3
- B. 4
- C. 5
- D. 6

Câu 7:

Từ 3 điểm A, B, C có thể vẽ được nhiều nhất bao nhiêu đoạn thẳng?

Trả lời:

Từ 3 điểm A, B, C có thể vẽ được nhiều nhất đoạn thẳng.

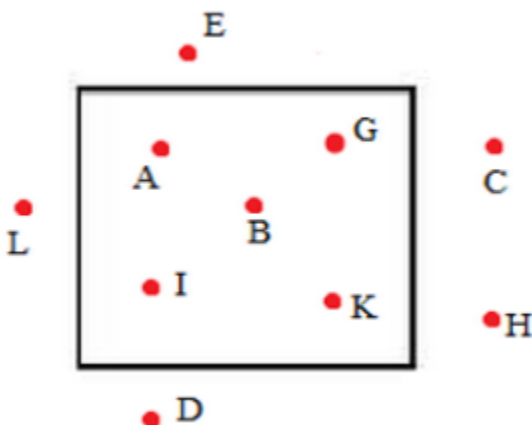
Câu 8:

Một đoạn thẳng được nối ít nhất từ mấy điểm?

- A. 1 điểm
- B. 2 điểm
- C. 3 điểm

Câu 9:

Có bao nhiêu điểm trong hình vẽ dưới đây?



- A. 9
- B. 10
- C. 11

- D. 12

Câu 10:

Có bao nhiêu điểm trong hình vẽ dưới đây?

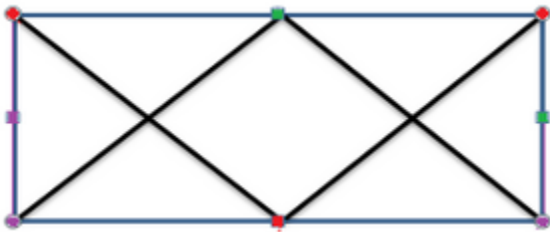


- A. 13
 B. 15
 C. 16
 D. 18

Đáp án - Nhận biết Điểm - Đoạn thẳng

Câu 1:

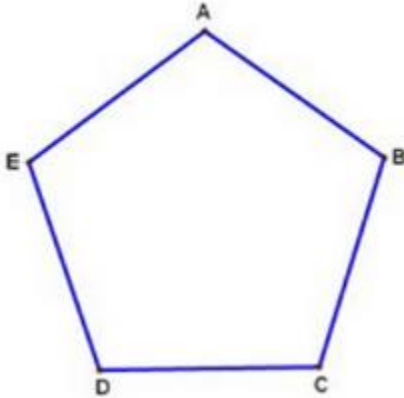
Trong hình vẽ có bao nhiêu điểm được đánh dấu?



- A. 7
 B. 8
 C. 9
 D. 10

Câu 2:

Hình vẽ có bao nhiêu đoạn thẳng?



- A. 3
- B. 4
- C. 5
- D. 6

Câu 3:

Hình có 5 đoạn thẳng nối với nhau là hình nào?



Hình A



Hình B



Hình C



Hình D

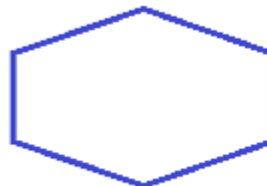
- A. Hình A
- B. Hình B
- C. Hình C
- D. Hình D

Câu 4:

Xem hình rồi chọn nhận xét đúng?



Hình A



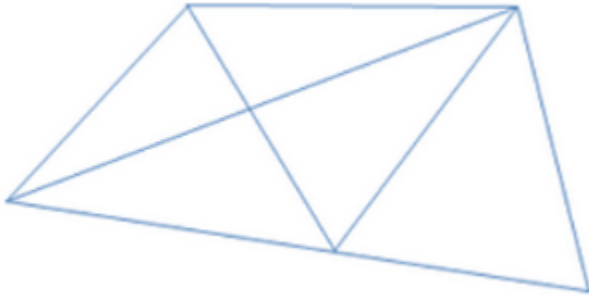
Hình B

- A. Hình A có nhiều đoạn thẳng hơn hình B.

- B. Hình A và hình B có số đoạn thẳng bằng nhau.
- C. Hình A có ít đoạn thẳng hơn hình B.

Câu 5:

Có hai đoạn thẳng hay nhiều đoạn thẳng cắt nhau tại một điểm. Hãy cho biết hình vẽ dưới đây có bao nhiêu điểm cắt nhau của các đoạn thẳng?



- A. 5
- C. 6
- C. 7
- D. 8

Câu 6:

Có tất cả bao nhiêu đoạn thẳng có thể vẽ được từ 4 điểm A, B, C, D?

- A. 3
- B. 4
- C. 5
- D. 6

Câu 7:

Từ 3 điểm A, B, C có thể vẽ được nhiều nhất bao nhiêu đoạn thẳng?

Trả lời:

Từ 3 điểm A, B, C có thể vẽ được nhiều nhất đoạn thẳng.

Câu 8:

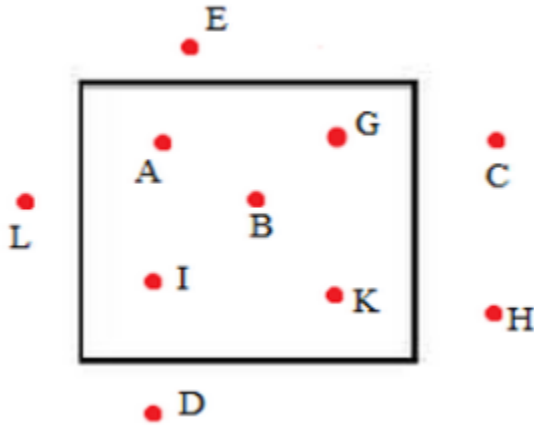
Một đoạn thẳng được nối ít nhất từ mấy điểm?

- A. 1 điểm
- B. 2 điểm

- C. 3 điểm

Câu 9:

Có bao nhiêu điểm trong hình vẽ dưới đây?



- A. 9
 B. 10
 C. 11
 D. 12

Câu 10:

Có bao nhiêu điểm trong hình vẽ dưới đây?



- A. 13
 B. 15
 C. 16
 D. 18