

Bài tập Cộng, trừ trong phạm vi 10

Câu 1:



Điền số thích hợp vào chỗ chấm:

$$5 + 3 = \dots\dots$$

Câu 2:

$$4 + 1 = 5$$

Chọn hình vẽ phù hợp với phép tính trên.



Câu 3:



Điền số thích hợp vào chỗ chấm:

$$7 + 3 = \dots\dots\dots$$

Câu 4:



Điền số thích hợp vào chỗ chấm:

$$8 + 0 = \dots\dots\dots$$

Câu 5:



Điền số thích hợp vào chỗ chấm:

$$4 - 3 = \dots\dots$$

Câu 6:






Điền vào chỗ chấm:

$$6 - 4 = \dots\dots\dots$$

Câu 7:

$$4 - 4 = 0$$

Tìm hình thích hợp cho phép tính ở trên.

- A. 
- B. 
- C. 

Câu 8:



Điền số thích hợp vào chỗ chấm:

$$3 - 2 = \dots\dots\dots$$

Câu 9:

Hòa có 3 bông hoa. Bình có nhiều hơn Hòa 4 bông hoa. Hỏi Bình có mấy bông hoa?

Trả lời:

Bình có bông hoa.

Câu 10:

Điền số thích hợp:

$$6\text{dm} + 3\text{dm} = \dots\dots\dots \text{dm.}$$

Câu 11:



Lựa chọn phép tính đúng với hình trên:

- A. $6 + 2 = 8$
- B. $3 + 3 = 6$
- C. $6 + 3 = 9$

Câu 12:



Điền số thích hợp vào chỗ chấm:

$4 + 5 = \dots\dots\dots$